



Ficha Numeración

Nombre: _____

*Recuerda al finalizar la ficha enviarme una foto a tu guía con el trabajo realizado.

1. Escribe el antecesor y sucesor de cada número.

_____ 349 _____

_____ 123 _____

_____ 810 _____

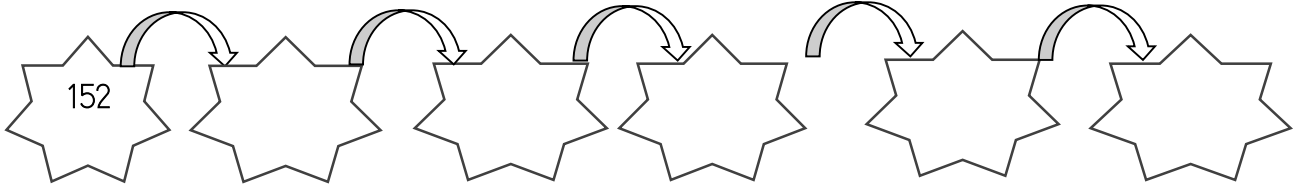
_____ 523 _____

_____ 265 _____

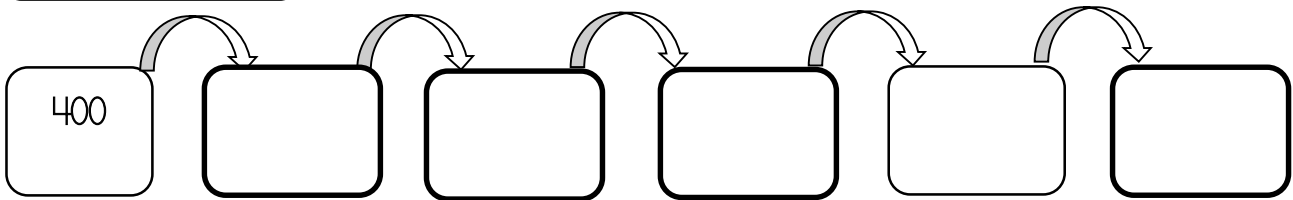
_____ 955 _____

2. Completa las siguientes series numéricas ascendentes.

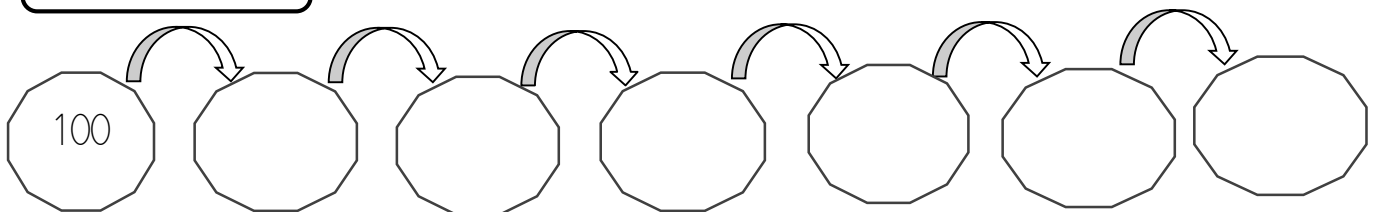
De 2 en 2



De 5 en 5



De 10 en 10



4. Encierra el valor posicional del dígito destacado.

170

100 10 1

134

300 30 3


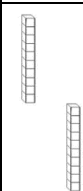

152

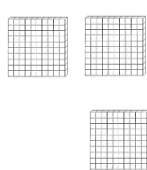


200 20 2


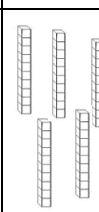

5. Observa el dígito marcado en cada número y completa la tabla con lo que se indica.

Número	Posición del dígito	Valor posicional
520		
184		
461		
360		

6. Completa cada tabla con el número representado. Luego, escribe el valor posicional de cada dígito.

C	D	U
		

C	D	U
		

C	D	U
		

7. Observa el cartel con la cifra y luego pinta su representación gráfica. Finalmente, en el recuadro escribe el valor posicional de cada dígito.

530

C	D	U
5	3	0

823

C	D	U
8	2	3

275

C	D	U
2	7	5