
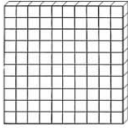




## Hoja de trabajo numeración

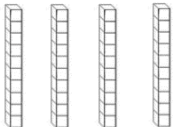
Nombre: \_\_\_\_\_

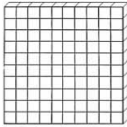
1. Completa el cuadro con la información que se pide de cada jerarquía.

Representación gráfica	Nombre	Valor
		1
	decena	
	centena	

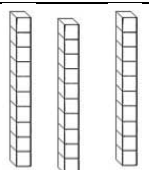

2. Observa las imágenes que se muestran y completa con la cantidad equivalente.

a) Una decena  es igual a \_\_\_\_\_ unidades.

b) Cuatro decenas  son igual a \_\_\_\_\_ unidades.



c) Una centena  es igual a \_\_\_\_\_ unidades.

3. Escribe los números que corresponden a cada representación.

Decenas	Unidades
	

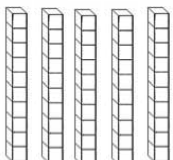

\_\_\_\_\_ decenas + \_\_\_\_\_ unidades

forman el número \_\_\_\_\_

Decenas	Unidades
	

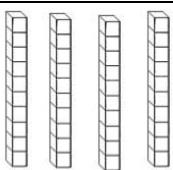

\_\_\_\_\_ decenas + \_\_\_\_\_ unidades

forman el número \_\_\_\_\_

Decenas	Unidades
	

\_\_\_\_\_ decenas + \_\_\_\_\_ unidades

forman el número \_\_\_\_\_

Decenas	Unidades
	

\_\_\_\_\_ decenas + \_\_\_\_\_ unidades

forman el número \_\_\_\_\_

4. Escribe el *antecesor* y *sucesor* de cada número dado.

\_\_\_\_\_ 15 \_\_\_\_\_

\_\_\_\_\_ 49 \_\_\_\_\_

\_\_\_\_\_ 28 \_\_\_\_\_

\_\_\_\_\_ 10 \_\_\_\_\_

\_\_\_\_\_ 39 \_\_\_\_\_

\_\_\_\_\_ 27 \_\_\_\_\_

5. Pinta la palabra que completa correctamente la frase.

a) 24 es  que 39

c) 39 es  que 29

b) 15 es  que 50

d) 46 es  que 49

**¡Desafío!**

Une al pescador, con el pez que corresponda.

35

14

26



Número mayor que 23 y menor que 30



- Recuerda al finalizar esta ficha, enviar una foto con tu trabajo a la guía del salón.