

1. Completa el siguiente texto, utilizando las palabras que encontrarás en el rectángulo de abajo:

Tierra - Vía Láctea - Big Bang - ocho - galaxias - Sol - espiral

El universo comenzó con una gran explosión que se ha llamado _____.

Luego de esto, todo se fue ordenando, las estrellas aparecieron, se juntaron y formaron las _____.
Nuestro sistema solar se ubica en una galaxia de forma _____,
llamada _____.

Existen _____ planetas que giran alrededor de una estrella llamada _____.

El único planeta en el cual se ha encontrado vida es en el planeta _____ que es nuestro hogar.



2. Dibuja los siguientes elementos que se piden:

galaxia elíptica	cinturón de asteroides	Saturno	Big Bang


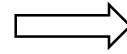
3. Une la estación del año con su nombre y luego dibuja alguna ropa que usas en esa estación:





invierno





primavera





verano



otoño



4. Completa el siguiente cuadro:

	
<p>Movimiento de _____</p>	<p>Movimiento de _____</p>
<p>Dura:</p>	<p>Dura:</p>
<p>Produce:</p>	<p>Produce:</p>

5. Lee cada oración y luego escribe V si es verdadero y F si es falso:

- La capa interna que se encuentra entre el núcleo y la corteza se llama manto _____
- La "Hidrosfera" es la capa de aire que envuelve a la Tierra _____
- La corteza es la capa más gruesa de la Tierra _____
- La capa de piedras y rocas, que es sobre la cual vivimos se llama litosfera _____

6. Explica con tus palabras lo que es la Biosfera. Luego dibújala:

