

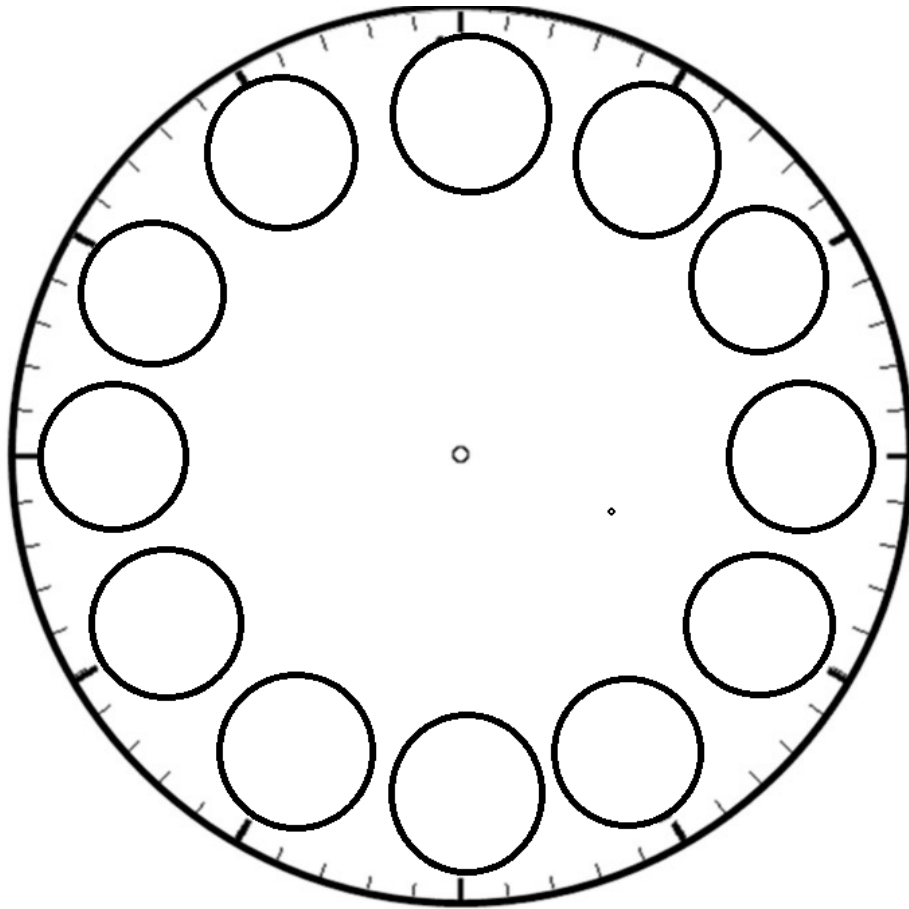
Antes de comenzar a realizar esta ficha, te invito a ver algunos videos que te ayudarán a entender mejor la hora

Historia del reloj: https://www.youtube.com/watch?v=XogjXM_fRho

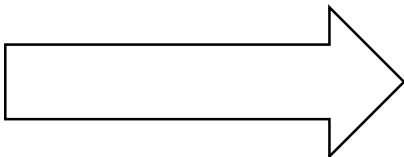
Partes del reloj: <https://www.youtube.com/watch?v=H3Tp1rCZo0c>

Horas en punto: <https://www.youtube.com/watch?v=cj9fgvAAQk0>


1. Observa el siguiente reloj y luego escribe sus horas, partiendo desde las 12:



2. Pinta cada manecilla del reloj y luego repasa sus nombres:



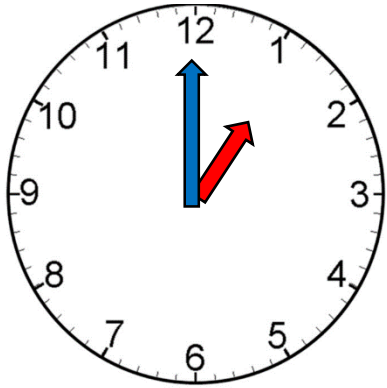
horario



minutero

3. Ahora trabajaremos con las horas en punto. Mira el ejemplo:

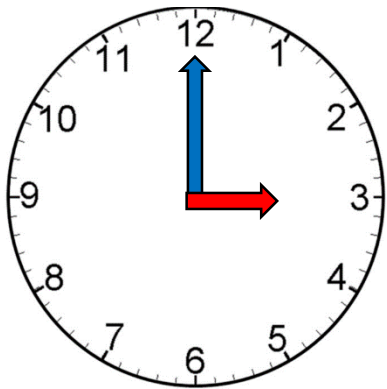
Ejemplo: Debes dibujar las manecillas y luego escribir la hora con números y palabras:



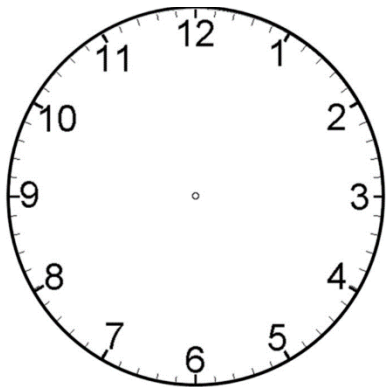
1:00

una en punto

Ahora debes completar tu:



:



8:00