

Ejercitación numeración.

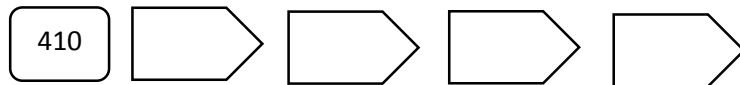
Nombre: _____

1. Completa la siguiente tabla, escribiendo el antecesor y sucesor de cada número.

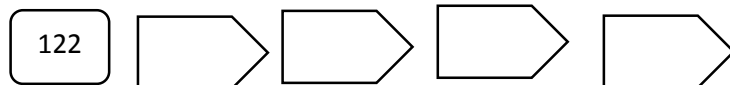
	499	
	210	
	739	
	473	
	300	
	999	
	670	

2. Completa las siguientes series numéricas.

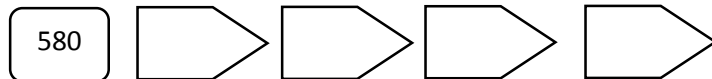
- De 5 en 5 hacia adelante (ascendentes)



- De 2 en 2 hacia adelante (ascendentes).



- De 10 en 10 hacia atrás (descendentes).

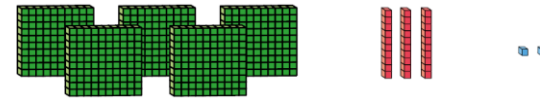


3. ¿Qué número está representado?



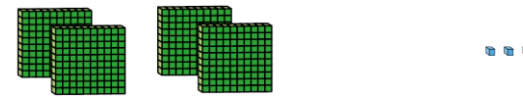
Centenas	Decenas	Unidades

Se lee _____



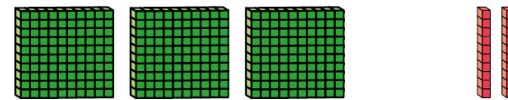
Centenas	Decenas	Unidades

Se lee _____



Centenas	Decenas	Unidades

Se lee _____



Centenas	Decenas	Unidades

Se lee _____

4. Observa el dígito marcado en cada número y completa la tabla con lo que se indica.

Número	Posición del dígito	Valor posicional
170		
326		
539		

¡Ahora a jugar!

<https://la.ixl.com/math/4-grado/valor-posicional-en-los-n%C3%BAmeros-naturales>