





Trabajemos con la línea de la vida.

Nombre: _____


1. Elige un ser vivo de la línea de la vida que llame tu atención. Dibújalo y escribe su nombre.




2. Enumera del 1 al 5 los grupos de vertebrados según su aparición en la línea de la vida.




aves




reptiles



anfibios




mamíferos



peces

- ¿A qué grupo de vertebrados pertenece el ser humano?

3. Explica con tus palabras qué es una glaciación y luego, dibuja cómo crees que era.



4. ¿De qué forma se extinguieron los dinosaurios? Escribe una teoría que conozcas.

5. Elige un dinosaurio que llame tu atención e investiga sobre él. Dibújalo, escribe su nombre y, al menos, tres características.

	Nombre:

6. Recorta los seres vivos que aparecen en la parte inferior de la hoja y clasificalos en la siguiente tabla, según el grupo al que pertenecen.

Invertebrados	Vertebrados				
	Peces	Anfibios	Reptiles	Aves	Mamíferos

