




Trabajemos con la línea de la vida.

Nombre: _____


1. Elige un ser vivo de la línea de la vida que llame tu atención. Dibújalo y escribe su nombre.





Los animales vertebrados son aquellos que, como nosotros, poseen columna vertebral.

2. Los vertebrados aparecieron en este orden. Busca en la línea de la vida un animal de cada grupo y dibújalo en el recuadro que corresponda.



1. Peces



2. Anfibios



3. Reptiles



4. Aves



5. Mamíferos

3. Lee los siguientes enunciados y pinta la respuesta correcta.

- Los orígenes de la vida fueron:

sobre las montañas

bajo el agua

- Los reptiles más grandes fueron los:

dinosaurios

trilobites

- El ser humano pertenece al grupo de los:

mamíferos

reptiles

- El periodo en que la temperatura de la Tierra baja y se expande el hielo hacia los continentes se llama:

calentamiento global

glaciación

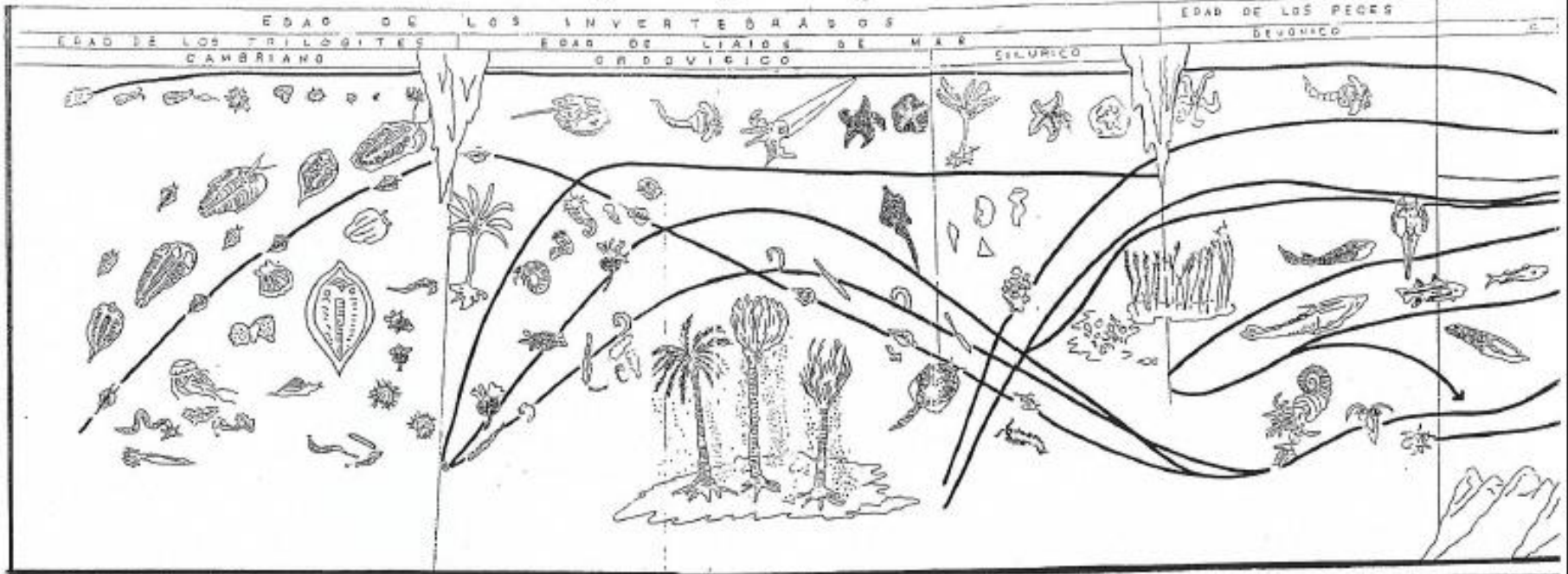
4. ¡Construye tu línea de la vida!

- En la siguiente hoja encontrarás una pequeña línea de la vida.

- Píntala y luego, recorta las dos franjas.

- Pégalas, fijándote bien en qué orden van (pide ayuda si es necesario).

P A L E O Z O I C



NEOZIC

EDAD DE LOS MAMÍFEROS

EDAD DE LOS MAMÍFEROS

EDAD DE LOS MAMÍFEROS

EDAD DE LOS MAMÍFEROS

EDAD DE LOS MAMÍFEROS

EDAD DE LOS MAMÍFEROS

EDAD DE LOS MAMÍFEROS

EDAD DE LOS MAMÍFEROS

EDAD DE LOS MAMÍFEROS

EDAD DE LOS MAMÍFEROS

EDAD DE LOS MAMÍFEROS

EDAD DE LOS MAMÍFEROS

EDAD DE LOS MAMÍFEROS

EDAD DE LOS MAMÍFEROS

EDAD DE LOS MAMÍFEROS

EDAD DE LOS MAMÍFEROS

EDAD DE LOS MAMÍFEROS

EDAD DE LOS MAMÍFEROS

EDAD DE LOS MAMÍFEROS

EDAD DE LOS MAMÍFEROS

