

Numeración y operatoria

Nombre: _____

1. Escribe el antecesor y sucesor de los siguientes números.

Antecesor	Número	Sucesor
	520	
	489	
	721	
	338	
	990	
	100	
	999	

2. Escribe $>$ $<$ ó $=$ según corresponda.

$769 \text{ _____ } 999$

$986 \text{ _____ } 777$

$809 \text{ _____ } 923$

$567 \text{ _____ } 867$

$982 \text{ _____ } 982$

$980 \text{ _____ } 980$

$456 \text{ _____ } 964$

$892 \text{ _____ } 765$

3. Resuelve las siguientes sumas estáticas.

C	D	U
1	4	5
4	3	2
<hr/>		

+

C	D	U
2	5	3
1	1	6
<hr/>		

+

C	D	U
2	3	9
3	3	0
<hr/>		

C	D	U
3	2	6
6	7	1
<hr/>		

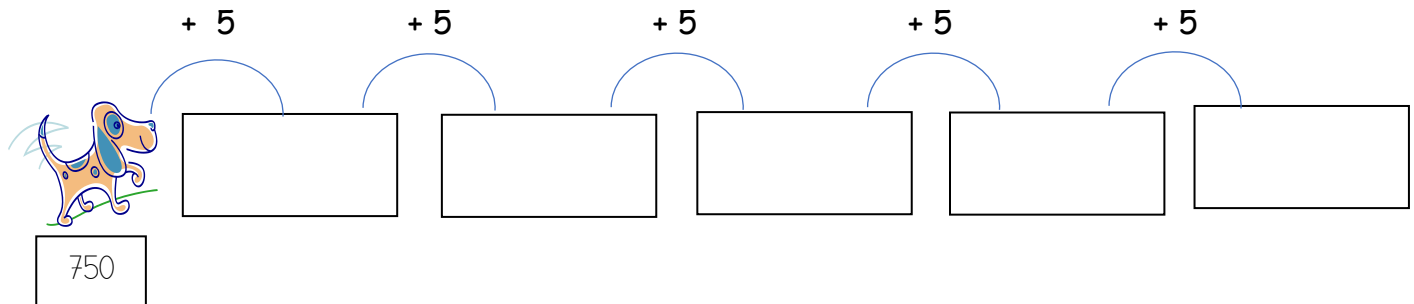
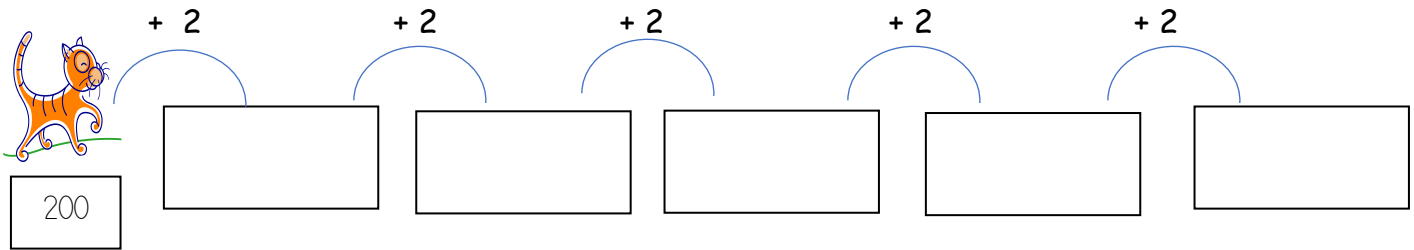
+

C	D	U
3	1	5
4	6	1
<hr/>		


+

C	D	U
3	7	2
5	2	7
<hr/>		

4. Completa las siguientes secuencias numéricas.




5. Resuelve las siguientes restas estáticas y descubre el nombre de cada niño o niña. Luego escribe el nombre en cada nube de diálogo.




Empty speech bubble

	C	D	U
	2	8	9
-	1	4	4




Empty speech bubble

	C	D	U
	5	5	9
-	2	4	9




Empty speech bubble

	C	D	U
	3	3	8
-	1	2	5




Empty speech bubble

	C	D	U
	5	8	7
-	3	7	5



Empty speech bubble

	C	D	U
	3	3	5
-	1	2	5



Empty speech bubble

	C	D	U
	7	5	7
-	6	0	4

310
Sebastián

212
Carla

210
Matías

145
Lucas

153
Samuel

213
Sofía