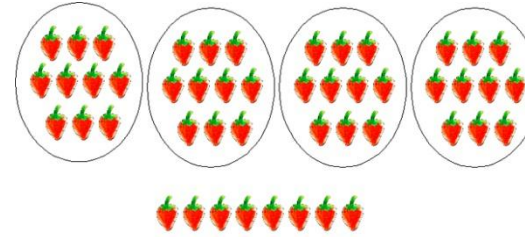



Formación de cantidades con decenas y unidades.

Las **decenas** están formadas por 10 elementos

Las **unidades** representan un elemento

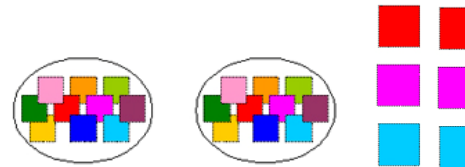


_____ decenas y _____ unidades, forman el número _____



_____ decenas y _____ unidades, forman el número _____

3 decenas y 4 unidades, forman el número **34**



_____ decenas y _____ unidades, forman el número _____



_____ decenas y _____ unidades, forman el número _____



_____ decenas y _____ unidades, forman el número _____



_____ decenas y _____ unidades, forman el número _____